



Sens des opérations

Représenter une situation.
Identifier l'opération.

Problèmes

Fiche n°

lundi mardi mercredi jeudi vendredi samedi dimanche




/

/

1



J'entoure dans le texte ce que je vais dessiner, je complète le dessin, puis je réponds.



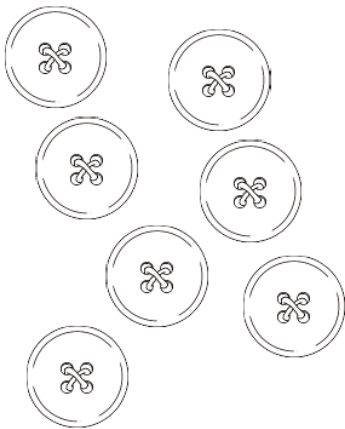
9 canards se promènent dans la mare, mais 3 canards s'envolent.

♥ Combien en reste-t-il sur l'eau ?

◆

✦ Il reste ____ canards sur l'eau.

2



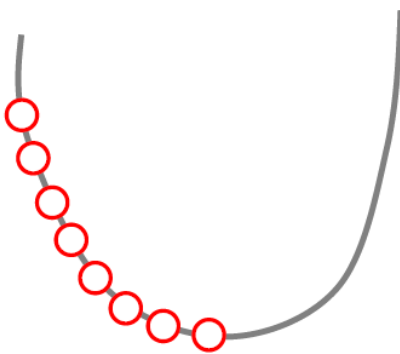
Léa a 7 boutons à son manteau, elle en perd 2 .

♥ Combien lui en reste-t-il ?

◆

✦ Il lui reste ____ boutons

3



Inès fait un collier de perles, elle a mis 8 perles rouges , puis elle ajoute 7 perles bleues .

♥ Combien y a-t-il de perles dans le collier ?

◆

✦ Il y a ____ perles