



Sens des opérations

Représenter une situation.
Identifier l'opération.

Problèmes

Fiche n°

lundi mardi mercredi jeudi vendredi samedi dimanche




/ /

1



J'entoure dans le texte ce que je vais dessiner, je complète le dessin, puis je réponds.




8 oiseaux se sont posés dans l'arbre.
5 oiseaux vont s'envoler.

♥ Combien en restera-t-il dans l'arbre ?

◆

♣ Il restera ____ oiseaux.

2




Lylou a allumé 10 bougies pour son anniversaire, elle souffle mais n'éteint que 7 bougies.

♥ Combien de bougies restent allumées ?

◆

♣ Il reste ____ bougies allumées.

3



Dans la tirelire il y avait 9 €. Jules a pris 3 € pour s'acheter un livre.

♥ Combien reste-t-il dans la tirelire ?

◆

♣ Il reste ____ €.