



Sens des opérations

Se déplacer sur la bande numérique.
Identifier la situation finale et intermédiaire.

Problèmes

Fiche n°

lundi mardi mercredi jeudi vendredi samedi dimanche


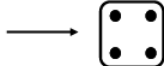



/ /

1



J'entoure dans le texte ce dont j'ai besoin, j'utilise la bande numérique pour répondre.



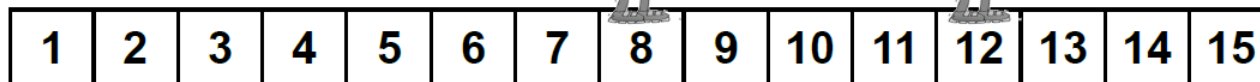
Alicia joue au jeu de l'oie elle est sur la case 3. Elle lance le dé. 

♥ **Sur quelle case va-t-elle arriver ?**

◆

✦ Elle arrive sur la case _____

2




Jules joue au jeu de l'oie il était sur la case 8 . Il lance le dé et arrive sur la case 12 .


♥ **Combien de points marquait le dé ?**

◆

✦ Il y avait _____ points sur le dé.

3



Lucas joue au jeu de l'oie, il est sur la case 7. Il lance le  dé.

♥ **Sur quelle case va-t-il arriver ?**

◆

✦ Il arrive sur la case _____