



Énigmes

lundi

mardi

mercredi

jeudi

vendredi


samedi

dimanche

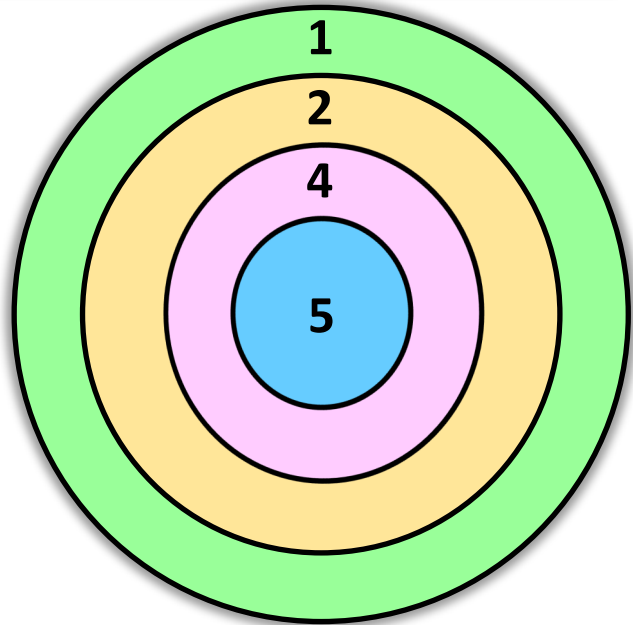



/

/



Aldo a lancé 4 fléchettes et a obtenu 16 points.
Dessine les fléchettes à la bonne place dans la cible.



Énigmes fiche 1 A CP

l'potâme.



Énigmes

lundi

mardi

mercredi

jeudi

vendredi

samedi

dimanche

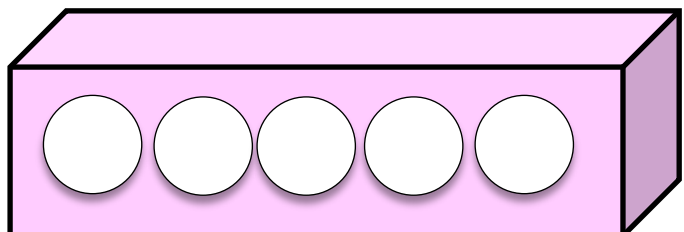
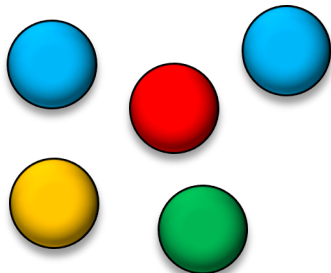


/

/



Aide Bazil à ranger ses 5 balles :
Il y a deux balles entre les 2 balles bleues.
Il y a une balle rouge à gauche de la verte.
La balle jaune est placée au bout à droite.



Énigmes fiche 1 B CP

l'potâme.




Énigmes

lundi mardi mercredi jeudi vendredi samedi dimanche

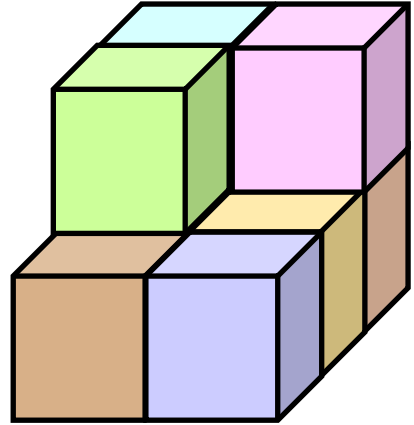
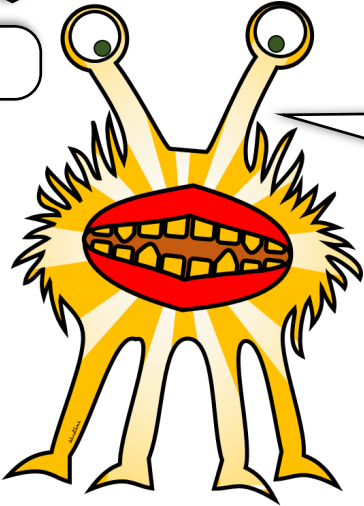


/

/



Frida a fait une figure avec ses cubes.
Combien de cubes a-t-elle utilisés ?



Énigmes fiche 2 A CP

l'potâme.



Énigmes

lundi mardi mercredi jeudi vendredi samedi dimanche




/

/



Elfie veut ranger ses balles dans une boîte. Colorie
toutes les façons de les ranger.



Énigmes fiche 2 B CP

l'potâme.

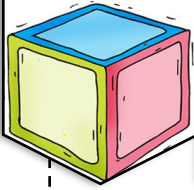


Énigmes

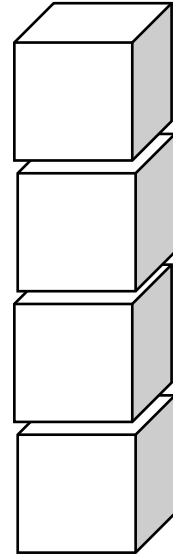

lundi mardi mercredi jeudi vendredi samedi dimanche



/ /



Dalila a rangé ses cubes. Le cube rouge est tout en bas. Le cube jaune est entre le bleu et le vert. Le cube vert n'est pas sous le jaune. Colorie les cubes.



Énigmes fiche 3 A CP

l'potâme.



Énigmes

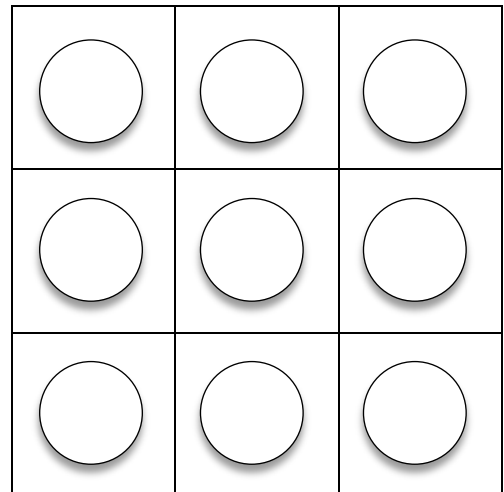
lundi mardi mercredi jeudi vendredi samedi dimanche



/ /



Cyrano a rangé ses balles dans la boîte. Elle a mis dans chaque colonne et chaque ligne 3 balles de couleurs différentes. Colorie les balles.



Énigmes fiche 3 B CP

l'potâme.



Énigmes



lundi mardi mercredi jeudi vendredi samedi dimanche



/ /



J'ai photographié, ce matin, 7 têtes et 20 pattes.
Combien de fois ai-je photographié Gavroche
et Hypolite.



Énigmes fiche 4 A CP

l'potâme.



Énigmes



lundi mardi mercredi jeudi vendredi samedi dimanche



/ /



Dans la boîte de Irène il y a 15 balles, des rouges et des bleues. Il y a 2 fois plus de balles rouges (le double) que de bleues. Colorie les balles.



Énigmes fiche 4 B CP

l'potâme.



Énigmes

lundi

mardi

mercredi

jeudi

vendredi

samedi

dimanche





/

/



Bazil veut construire le plus possible de nichoirs différents avec 3 couleurs. Colorie les nichoirs de Bazil.



Énigmes fiche 5 A CP

l'potâme.



Énigmes

lundi

mardi

mercredi

jeudi

vendredi


samedi

dimanche

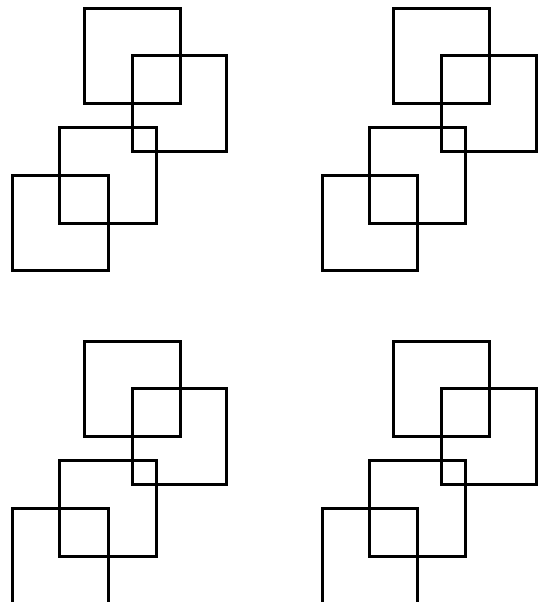
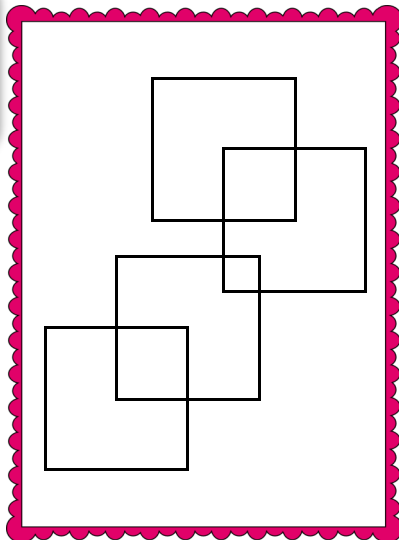




/

/



Combien de carrés Cyrano a-t-il dessiné sur son ardoise ? Pour t'aider utilise les petits dessins.



Énigmes fiche 5 B CP

l'potâme.



Énigmes

lundi

mardi

mercredi

jeudi

vendredi

samedi

dimanche



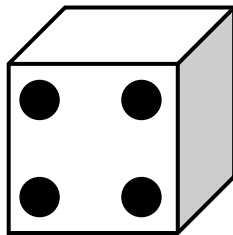
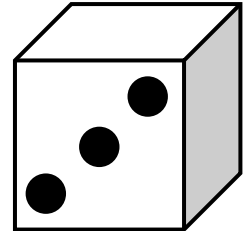
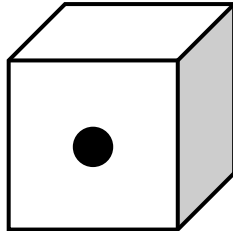



/

/



Kity a lancé 3 dés, elle a obtenu 8 points. Choisis les 3 bons dés.



Énigmes fiche 6 A CP

l'potâme.



Énigmes

lundi

mardi

mercredi

jeudi

vendredi

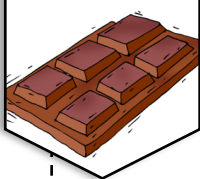
samedi

dimanche





/

/



Jordi a croqué la tablette de chocolat. Combien y avait-il de carrés dans cette tablette ?



Énigmes fiche 6 B CP

l'potâme.




Énigmes

lundi mardi mercredi jeudi vendredi samedi dimanche

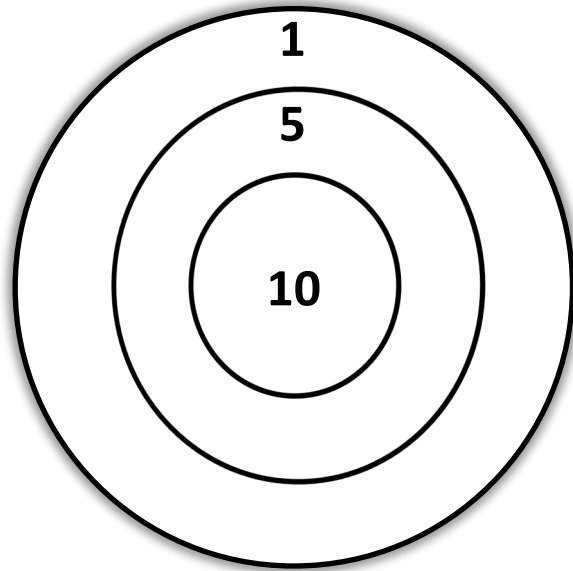



/

/



Aldo a lancé 5 fléchettes et a obtenu 31 points.
Dessine les fléchettes à la bonne place dans la cible.



Énigmes fiche 7 A CP

l'potâme.




Énigmes

lundi mardi mercredi jeudi vendredi samedi dimanche

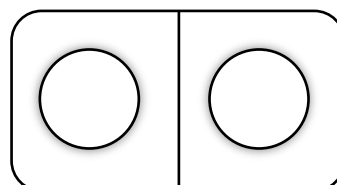
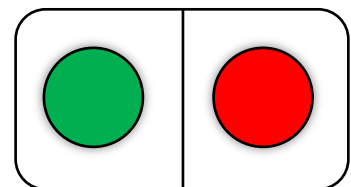
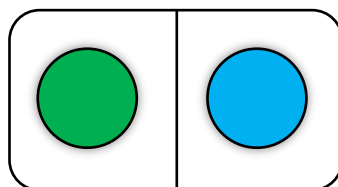
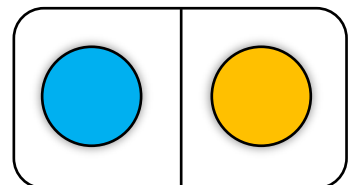
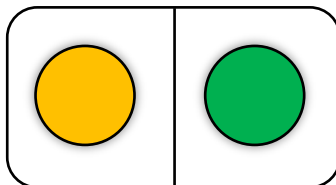
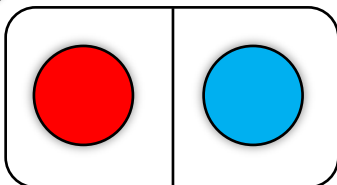


/

/



Lucien a perdu le dernier domino, colorie ce domino qui est différent de tous les autres et a 2 couleurs.



Énigmes fiche 7 B CP

l'potâme.



Énigmes

lundi mardi mercredi jeudi vendredi samedi dimanche



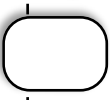


/

/



Bazil veut construire le plus possible de nichoirs différents. Colorie les nichoirs de Bazil.



Énigmes fiche 8 A CP

l'potâme.



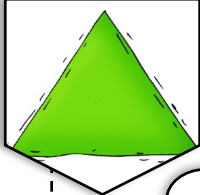
Énigmes

lundi mardi mercredi jeudi vendredi samedi dimanche

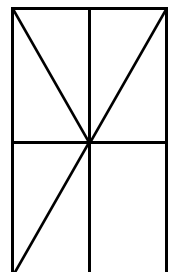
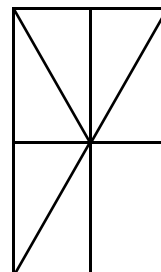
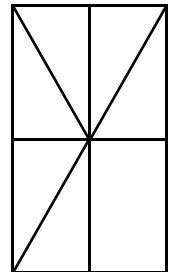
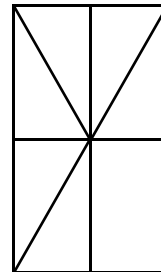
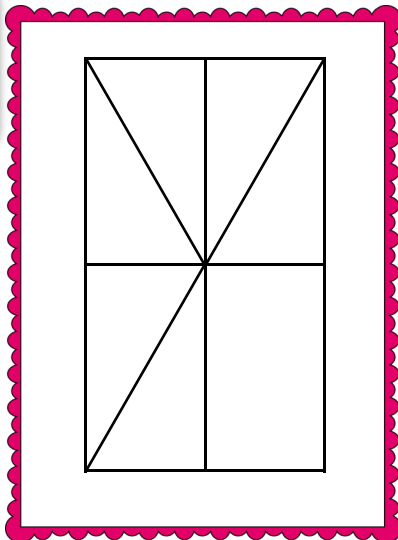




/

/



Combien de triangles Cyrano a-t-il dessiné sur son ardoise ? Pour t'aider utilise les petits dessins.



Énigmes fiche 8 B CP

l'potâme.



Énigmes

lundi mardi mercredi jeudi vendredi samedi dimanche







/ /



Retrouve le nichoir de Jordi.

Son toit n'est pas bleu. Il a 3 couleurs. Sa porte n'est pas ronde. Il n'a pas de rouge.



Énigmes fiche 9 A CP

l'otâme.



Énigmes





lundi mardi mercredi jeudi vendredi samedi dimanche



/ /



Aide Hypolite à retrouver le prix de chaque objet.



$$\text{Ring stack} + \text{Ring stack} + \text{Ring stack} = 9 \text{ €}$$

$$\text{Ring stack} + \text{Cube} + \text{Ring stack} = 10 \text{ €}$$

$$\text{Ring stack} + \text{Cube} = 5 \text{ €}$$

Énigmes fiche 9 B CP

l'otâme.




Énigmes

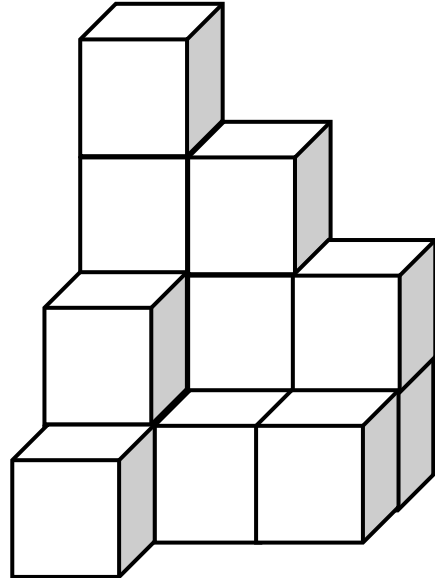
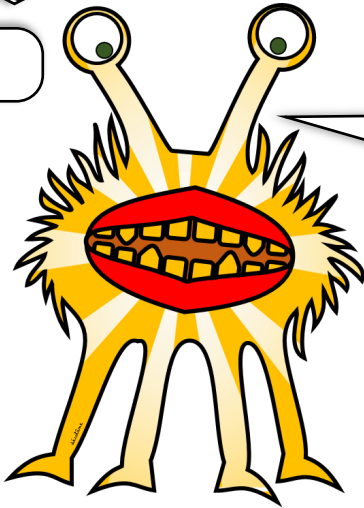
lundi mardi mercredi jeudi vendredi samedi dimanche



/ /



Frida a fait une figure avec ses cubes.
Combien de cubes a-t-elle utilisés ?



Énigmes fiche 10 A CP

l'potâme.

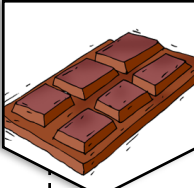


Énigmes



lundi mardi mercredi jeudi vendredi samedi dimanche



/ /



Jordi a croqué la tablette de chocolat. Combien y avait-il
de carrés dans cette tablette ?



Énigmes fiche 10 B CP

l'potâme.



Énigmes

lundi mardi mercredi jeudi vendredi samedi dimanche

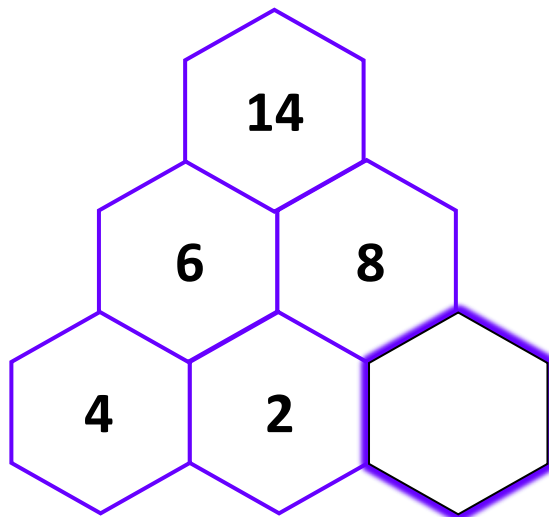



/

/



Gavroche n'arrive pas à trouver le nombre manquant de sa ruche. Aide-le à trouver la règle et écris le nombre.



Énigmes fiche 11 A CP

l'potâme.



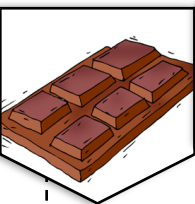
Énigmes

lundi mardi mercredi jeudi vendredi samedi dimanche





/

/



Aide Elfie à colorier les 2 dernières pièces en respectant la règle.



Énigmes fiche 11 B CP

l'potâme.



Énigmes

lundi mardi mercredi jeudi vendredi samedi dimanche





/

/



Kity n'arrive pas à remplir la dernière carte. Aide Kity à trouver la règle, et complète la carte.



Énigmes fiche 12 A CP

l'potâme.



Énigmes

lundi mardi mercredi jeudi vendredi samedi dimanche





/

/



Aide Lucien à retrouver sa maison et colorie-la. Sa maison à 5 fenêtres. Sa cheminée est à gauche mais sa porte est à droite.



Énigmes fiche 12 B CP

l'potâme.



Énigmes

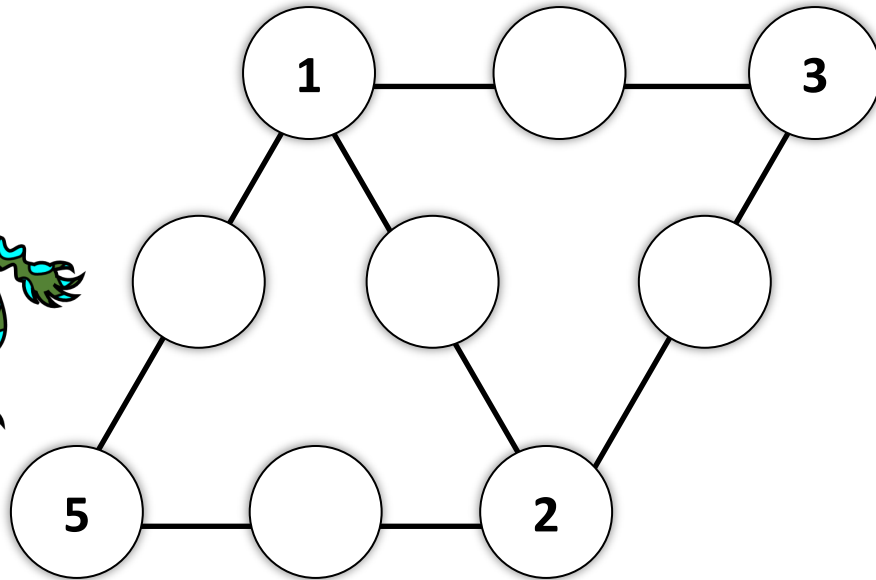

lundi mardi mercredi jeudi vendredi samedi dimanche



/

/

Aide Aldo à compléter sa forme. La somme de chaque ligne tracée doit être 12.



Énigmes fiche 13 A CP

l'potâme.



Énigmes


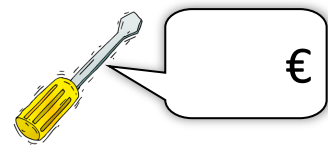


lundi mardi mercredi jeudi vendredi samedi dimanche



/

/

Aide Hypolite à retrouver le prix de chaque objet.



$$\text{Pliers} + \text{Pliers} + \text{Pliers} + \text{Pliers} = 40 \text{ €}$$

$$\text{Hammer} + \text{Pliers} + \text{Pliers} = 27 \text{ €}$$

$$\text{Hammer} + \text{Hammer} + \text{Screwdriver} = 19 \text{ €}$$

Énigmes fiche 13 B CP

l'potâme.



Énigmes

lundi mardi mercredi jeudi vendredi samedi dimanche



/

/



Retrouve l'ami de Bazil sur la photo.


Il ne pleure pas. Il ne tire pas la langue.

Il n'a pas de lunettes. On voit ses dents, elles ne sont pas pointues. Il a les yeux ouverts.



Énigmes fiche 14 A CP

l'potâme.




Énigmes

lundi mardi mercredi jeudi vendredi samedi dimanche




/

/

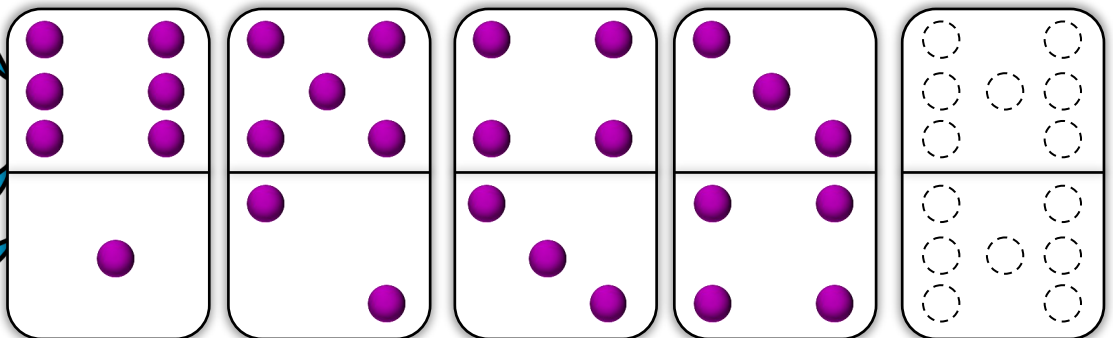


Observe la règle et aide Cyrano à compléter le dernier domino.



Énigmes fiche 14 B CP

l'potâme.





Énigmes

lundi mardi mercredi jeudi vendredi samedi dimanche





/

/



Irène a 10 balles dans sa boîte . Elle a autant de balles jaunes que de balles rouges. Mais elle a une balle bleue de plus que les balles jaunes. Colorie les balles.



Énigmes fiche 15 A CP

l'potâme.



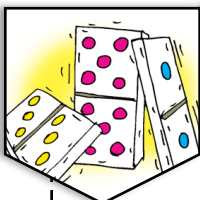
Énigmes

lundi mardi mercredi jeudi vendredi samedi dimanche

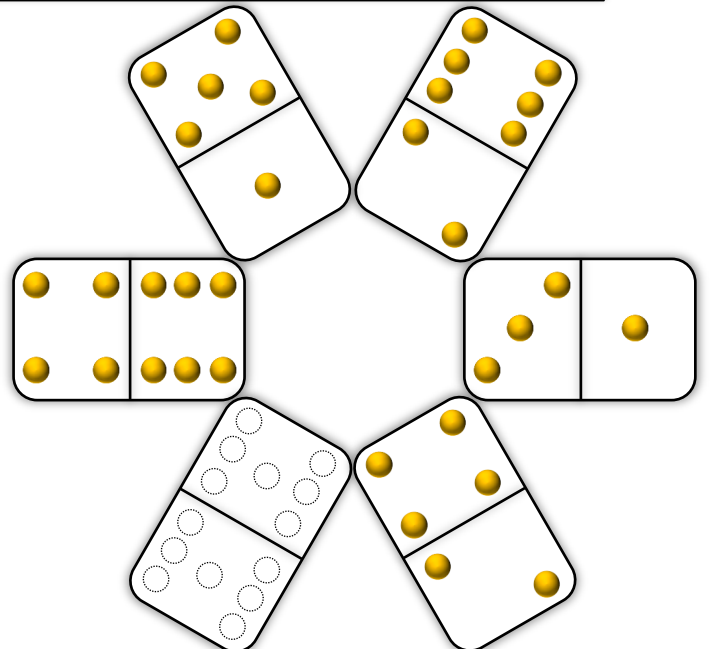




/

/



Observe la règle et aide Kity à compléter le dernier domino.



Énigmes fiche 15 B CP

l'potâme.




Énigmes

lundi mardi mercredi jeudi vendredi samedi dimanche

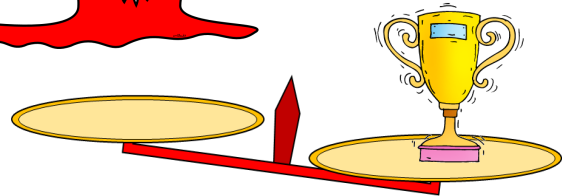
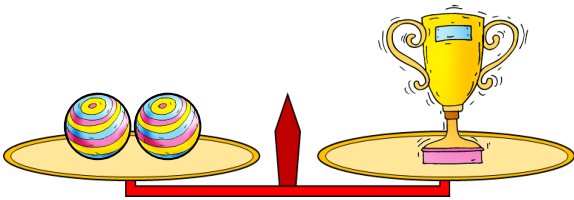
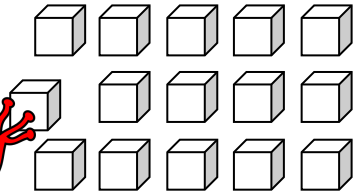

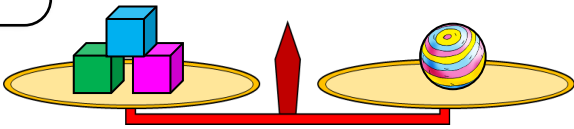


/

/



3 cubes pèsent autant qu'un ballon. 2 ballons pèsent autant qu'une coupe. Aide Elfie à trouver combien de cubes il faut pour peser autant qu'une coupe. Colorie-les.



Énigmes fiche 16 A CP

l'potâme.



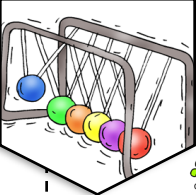
Énigmes

lundi mardi mercredi jeudi vendredi samedi dimanche







/

/



Aide Hypolite à retrouver le nombre de points que rapporte chaque animal.




$$\text{Lizard} + \text{Octopus} + \text{Shrimp} + \text{Crayfish} + \text{Crayfish} = 23$$

$$\text{Lizard} + \text{Lizard} + \text{Lizard} + \text{Lizard} + \text{Shrimp} = 13$$

$$\text{Lizard} + \text{Shrimp} + \text{Shrimp} + \text{Octopus} = 16$$

$$\text{Lizard} + \text{Lizard} + \text{Lizard} + \text{Lizard} + \text{Lizard} = 10$$



Énigmes fiche 16 B CP

l'potâme.



Énigmes

lundi mardi mercredi jeudi vendredi samedi dimanche




/

/



Aide Jordi à trouver la bonne série de nombre pour ouvrir le cadenas de la valise.



Aucun chiffre correct.



Un chiffre correct, bien placé.



Aucun chiffre correct.



Deux chiffres corrects, mal placés.



Un chiffre correct, bien placé.



Énigmes fiche 17 A CP

l'potame.



Énigmes

lundi mardi mercredi jeudi vendredi samedi dimanche

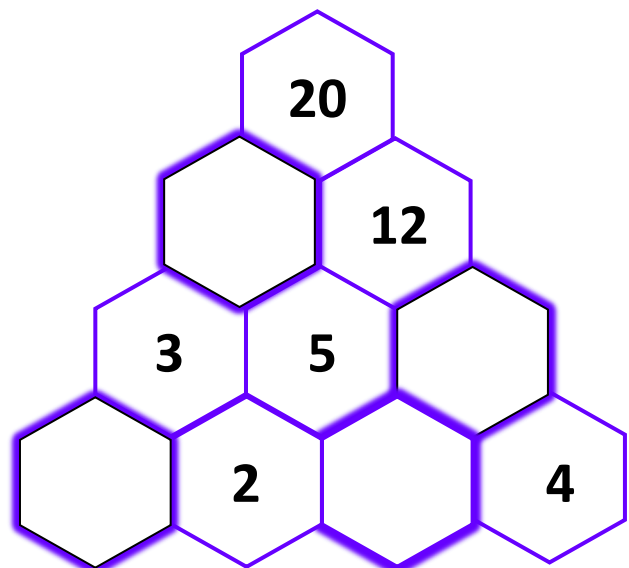




/

/



Gavroche n'arrive pas à trouver les nombres manquants de sa ruche. Aide-le à trouver la règle et écris le nombre.



Énigmes fiche 17 B CP

l'potame.



Énigmes

lundi mardi mercredi jeudi vendredi samedi dimanche



/ /





Retrouve le frère de Basil sur la photo.

Il ne porte pas de lunettes.

Il tire la langue.

On voit ses dents.



Énigmes fiche 18 A CP

l'potâme.




Énigmes

lundi mardi mercredi jeudi vendredi samedi dimanche





/ /



Elfie adore les aubergines. Pour se rendre dans son potager.

Il avance de 3 mètres le jour, mais recule de 1 m la nuit.

Combien de temps mettra-t-il pour atteindre son potager qui est à 14 m ?



Énigmes fiche 18 B CP

l'potâme.



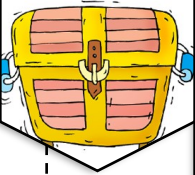
Énigmes

lundi mardi mercredi jeudi vendredi samedi dimanche




/

/



Lucien a trouvé un trésor mais pour l'ouvrir il faut choisir la bonne clef.

Son nombre est pair, il ne contient pas de 4, un de ses chiffres est 3. Il est plus petit que 37.



Énigmes fiche 19 A CP

l'potâme.




Énigmes

lundi mardi mercredi jeudi vendredi samedi dimanche



/

/





Aide Dalila à colorier ses papillons.

Le rouge a sa tête à gauche. Le bleu est le plus petit.

Le vert est entre le jaune et le violet.

Le noir vole vers le bas. Le violet est le plus grand.

Le rose vole sous le vert.



Énigmes fiche 19 B CP

l'potâme.




Énigmes

lundi mardi mercredi jeudi vendredi samedi dimanche

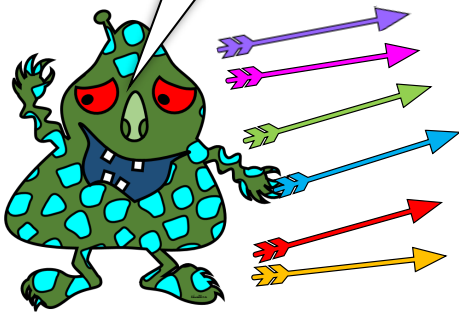


/

/



Aldo a lancé des flèches. Quelle flèche a atteint la pomme.
Colorie la flèche de Aldo.



Énigmes fiche 20 A CP

l'potâme.




Énigmes

lundi mardi mercredi jeudi vendredi samedi dimanche


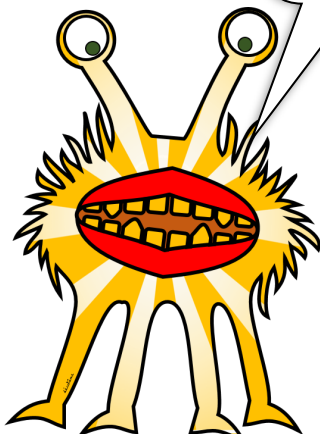



/

/



Aide Frida à trouver le papillon qui arrivera le premier au
cœur de la fleur. Colorie le papillon de Frida.



Énigmes fiche 20 B CP

l'potâme.



Énigmes

lundi

mardi

mercredi

jeudi

vendredi

samedi

dimanche




/

/



Aide Jordi à trouver la bonne série de nombre pour ouvrir le cadenas de la valise.



Aucun chiffre correct.



Un chiffre correct, mal placé.



Un chiffre correct, bien placé.



Un chiffre correct, bien placé.



Un chiffre correct, mal placé.



Énigmes fiche 21 A CP

l'potame.



Énigmes

lundi

mardi

mercredi

jeudi

vendredi

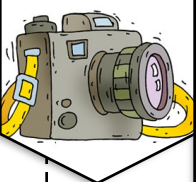
samedi

dimanche


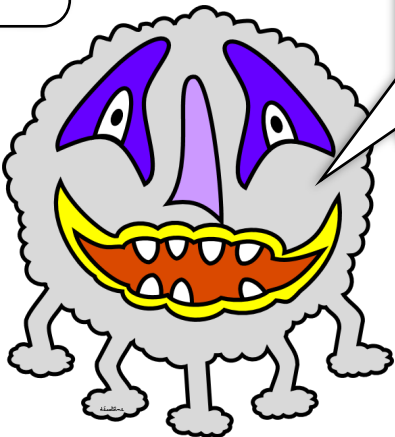


/

/



J'ai photographié, ce matin, 7 têtes et 26 pattes. Combien de fois ai-je photographié Gavroche et Hypolite.



Énigmes fiche 21 B CP

l'potame.