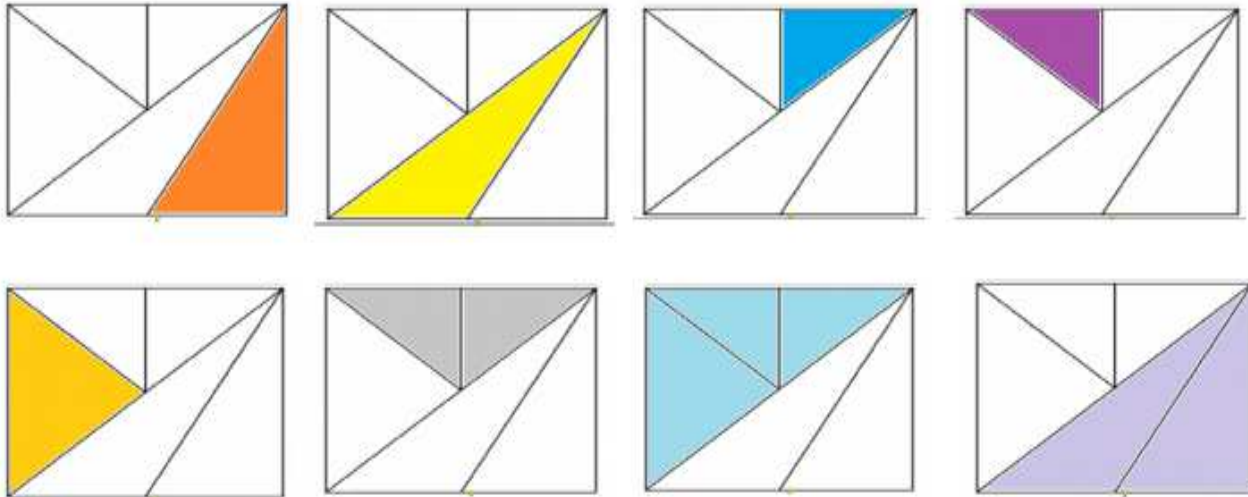




## Enigme 1 :      Solution « Les triangles »


Il y a 8 triangles en tout.



## Enigme 2 :      Solution « Les fouilles »

Il faut regarder la position que le symbole occupe qu'une seule fois sur la tablette.

Puis reporter cette position sur la tablette manquante.

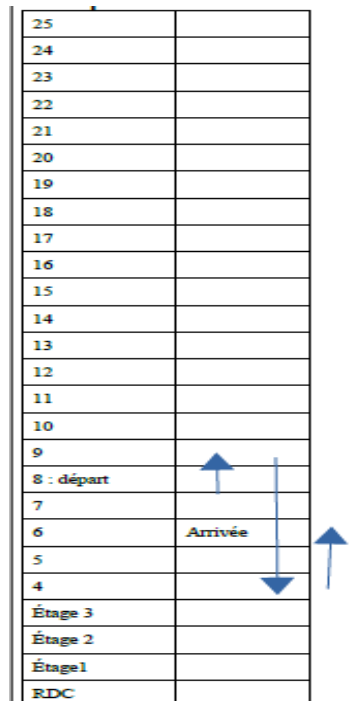


**Enigme 3 : Solution « L'ascenseur »**

On peut schématiser la solution, ou faire :

$$8+1 = 9 \text{ puis } 9-5 = 4 \text{ et ensuite } 4+2 = 6$$

Amine arrivera au 6<sup>ème</sup> étage.



**Enigme 4 : Solution « Rien ne sert de pleurer »**

$$+1$$

$$3 \quad 5$$

$$+ \underline{4 \quad 9}$$

$$8 \quad 4$$

$$+1$$

$$2 \quad 2$$

$$+ \underline{9 \quad 9}$$

$$1 \quad 2 \quad 1$$

$$1 \quad 9 \quad 11$$

$$- \underline{13 \quad 4}$$

$$1 \quad 5 \quad 7$$